
















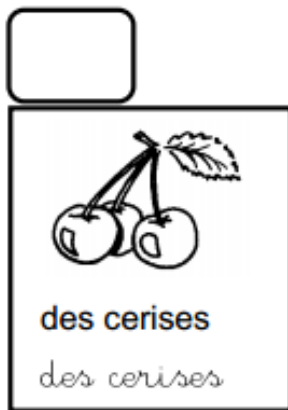
Découpe et trie les mots dans le tableau. Puis colorie la lettre qui suit la lettre c . Que constates-tu ?

 cinq	 hélicoptère	 citron	 canard	 cactus
 racine	 princesse	 corbeau	 pouce	 crocodile
 colle	 cube	 sorcière	 camion	 glace

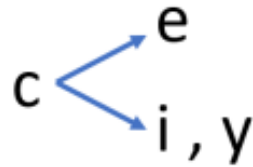
La lettre c fait le son [k]	La lettre c fait le son (s)

Lis la fiche suivante. Colorie le graphème 'c' en rouge et la lettre qui est juste après en vert.

Range la fiche dans ton porte-vue de lecture.



Suis la flèche et dis longtemps « s ».



Je colorie le graphème C, c et je lis.



cinq	<i>cinq</i>
cinquante	<i>cinquante</i>
ce	<i>ce</i>
ces	<i>ces</i>
cet	<i>cet</i>
décembre	<i>décembre</i>
un cygne	<i>un cygne</i>

Amine et Kali jouent avec cent robots .

Amine et Kali jouent avec cent robots.

Souviens - toi !



dans trop bien très leur c'est les
mais chez ces rien avec quelques
tes cet mes être quel des quelle

Ecriture :

c

ce

ci

cy

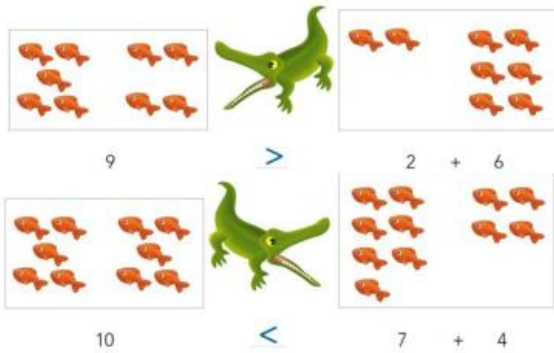
une cerise

un citron

un cygne

Comparer deux nombres

Plus grand que ; plus petit que



Le crocodile mange
toujours le plus
gros !



A la maison:

- S'entraîner : placer le signe < ou > entre deux collections de dessins
- Puis entre deux nombres
- Entre un nombre et une addition (comme dans l'exemple)

Mesures de longueurs

Le centimètre

Pour mesurer une longueur, il faut choisir une unité



Tu peux reporter l'unité

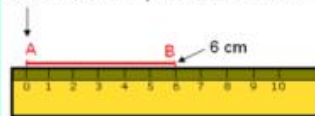
unité
bande à mesurer
Je reporte 3 fois l'unité.
La longueur de la bande bleue est de 3 unités.

Tu peux utiliser la règle graduée

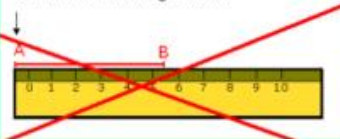
Sur cette règle graduée, l'unité est le centimètre.

La longueur de la ligne est de 3 centimètres

Bien en face du repère au dessus du zéro (0)



Sur le bord de la règle : non !



Pour bien mesurer,
tu dois bien placer
ta règle :



A la maison:

- S'entraîner à mesurer en reportant des unités
- Mesurer des traits (verticaux, horizontaux, obliques) en cm
- Mesurer une ligne brisée (il faut mesurer chaque partie et additionner ces dernières entre elles)